

Курс «Математика»

Департамент фундаментальной и  
прикладной химии, II семестр (I курс)

Лекторы:

к.ф.-м.н., доцент Нагребцкая Ю.В.,

к.ф.-м.н., доцент Перминова Ю.В.

Лекция 14  
Математический  
анализ  
Приложение  
определенного  
интеграла  
(продолжение)

# Вычисление длины плоской кривой, заданной параметрически

Теорема 2. Если плоская кривая задается параметрически уравнениями

$$\begin{cases} x = x(t) \\ y = y(t) \end{cases}, \quad \alpha \leq t \leq \beta,$$

где функции  $x(t)$ ,  $y(t)$  — непрерывно дифференцируемы, то её длина равна:

$$l = \int_{\alpha}^{\beta} \sqrt{(x'(t))^2 + (y'(t))^2} dt$$

# Вычисление длины плоской кривой, заданной параметрически

Доказательство. Если плоская кривая задается параметрическими уравнениями

$$\begin{cases} x = x(t) \\ y = y(t) \end{cases}, \quad \alpha \leq t \leq \beta,$$

$$\text{то } t = t(x), y = f(x) = y(t(x)) \Rightarrow$$

$$\Rightarrow f'(x) = y'_x = y'_t(t(x)) \cdot t'_x(x) =$$

# Вычисление длины плоской кривой, заданной параметрически

$$= y'_t(t(x)) \cdot \frac{1}{x'_t(t)} = \frac{y'_t(t)}{x'_t(t)};$$

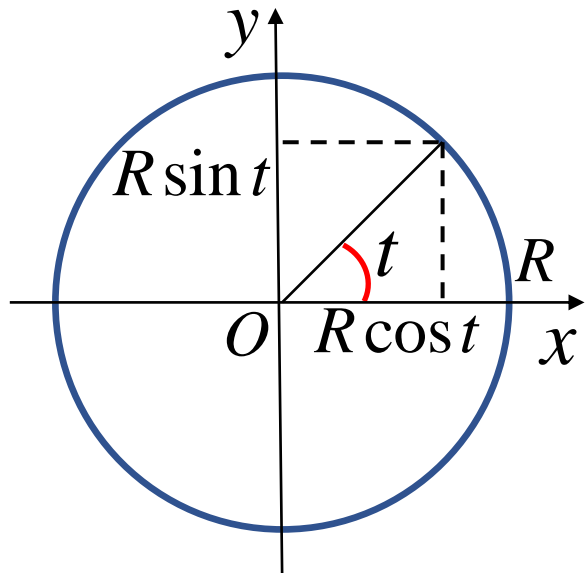
$$\Rightarrow l = \int_a^b \sqrt{1 + [f'(x)]^2} dx = \left[ \begin{array}{l} dx = x'_t(t) dt \\ x = a \Rightarrow t = \alpha \\ x = b \Rightarrow t = \beta \end{array} \right] =$$

$$\int_{\alpha}^{\beta} \sqrt{1 + \left[ \frac{y'(t)}{x'(t)} \right]^2} x'(t) dt = \int_{\alpha}^{\beta} \sqrt{(x'(t))^2 + (y'(t))^2} dt \blacksquare$$

# Вычисление длины плоской кривой, заданной параметрически

Пример 6. Найти длину окружности.

Решение. Параметрически окружность радиуса  $R$  задается уравнениями



$$\begin{cases} x = R \cos t \\ y = R \sin t \end{cases}, \quad 0 \leq t \leq 2\pi$$

$$\begin{cases} x'(t) = -R \sin t \\ y'(t) = R \cos t \end{cases}$$

# Вычисление длины плоской кривой, заданной параметрически

Следовательно,

$$\begin{aligned}\sqrt{x'(t)^2 + y'(t)^2} &= \sqrt{(-R \sin t)^2 + (R \cos t)^2} = \\ &= \sqrt{R^2 \sin^2 t + R^2 \cos^2 t} = R \sqrt{\sin^2 t + \cos^2 t} = R\end{aligned}$$

$$l_{\text{окружн.}} = R \int_0^{2\pi} dt = R t \Big|_0^{2\pi} = 2\pi R$$

# Вычисление длины пространственной кривой, заданной параметрически

Теорема 3. Если пространственная кривая задается параметрическими уравнениями

$$\begin{cases} x = x(t), \\ y = y(t), \\ z = z(t), \end{cases} \quad \alpha \leq t \leq \beta,$$

где функции  $x(t)$ ,  $y(t)$ ,  $z(t)$  — непрерывно дифференцируемы, то её длина равна:

$$l = \int_{\alpha}^{\beta} \sqrt{(x'(t))^2 + (y'(t))^2 + (z'(t))^2} dt$$

# Задача о вычислении объема тела по поперечным сечениям

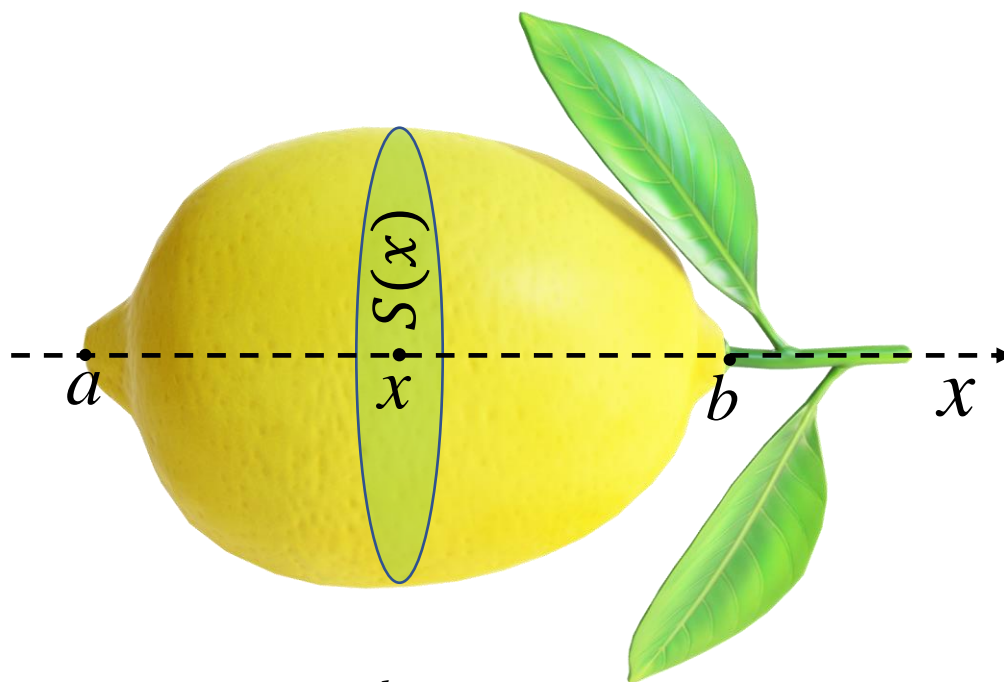
Теорема 4. Пусть дано некоторое тело с объемом  $V$ , причем для любого  $x$  фигура, полученная в сечении тела плоскостью  $x = const$ , имеет площадь  $S(x)$ ,  $a \leq x \leq b$ .

Предположим также, что функция  $S(x)$  непрерывна на отрезке  $[a, b]$ . Тогда

$$V = \int_a^b S(x) dx$$



# Задача о вычислении объема тела по поперечным сечениям



$$V = \int_a^b S(x) dx$$

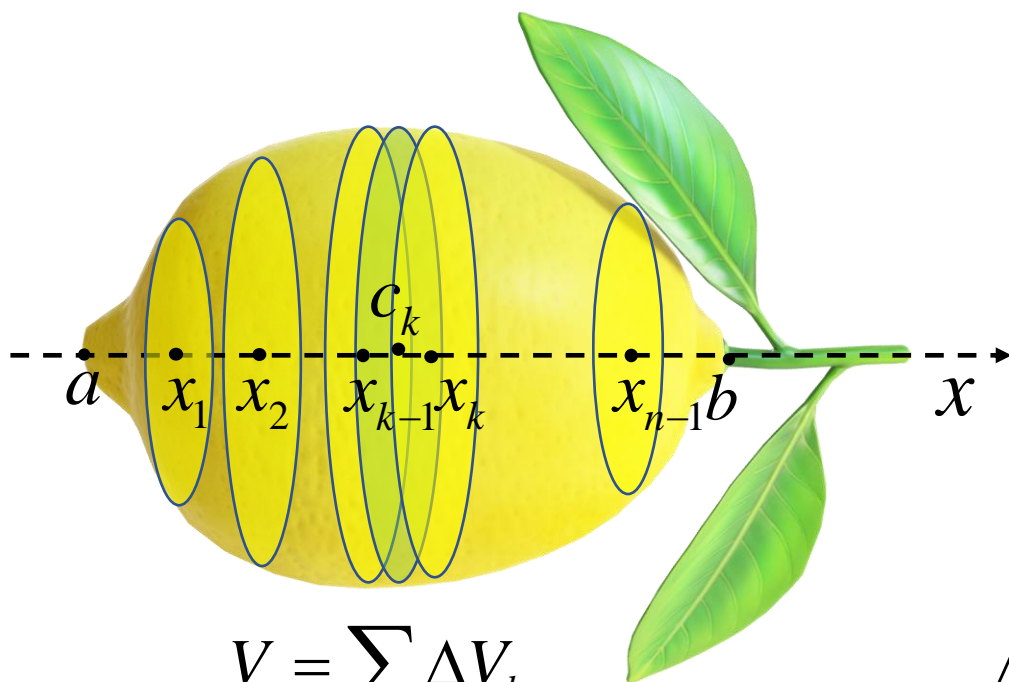
# Задача о вычислении объема тела по поперечным сечениям

Разделим отрезок  $[a, b]$  на  $n$  частей точками  
 $a = x_0, x_1, \dots, x_n = b$ .

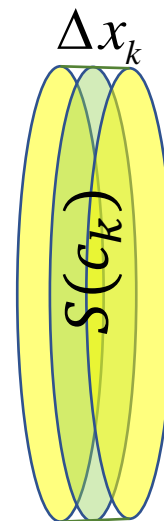
Через каждую точку проведем плоскость  $x = x_k$ .

Это приведет к разделению тела на слои,  
которые при малом расстоянии между точками  
деления приближенно можно считать цилиндрами.

# Задача о вычислении объема тела по поперечным сечениям



$$V = \sum_k \Delta V_k$$



$$\Delta V_k \approx S(c_k) \Delta x_k$$



# Задача о вычислении объема тела по поперечным сечениям

$$V = \sum_k \Delta V_k \quad \Delta V_k \approx S(c_k) \Delta x_k \Rightarrow$$

$$V \approx \sum_k S(c_k) \cdot \Delta x_k \Rightarrow \left[ d = \max_k \Delta x_k \right] \Rightarrow$$

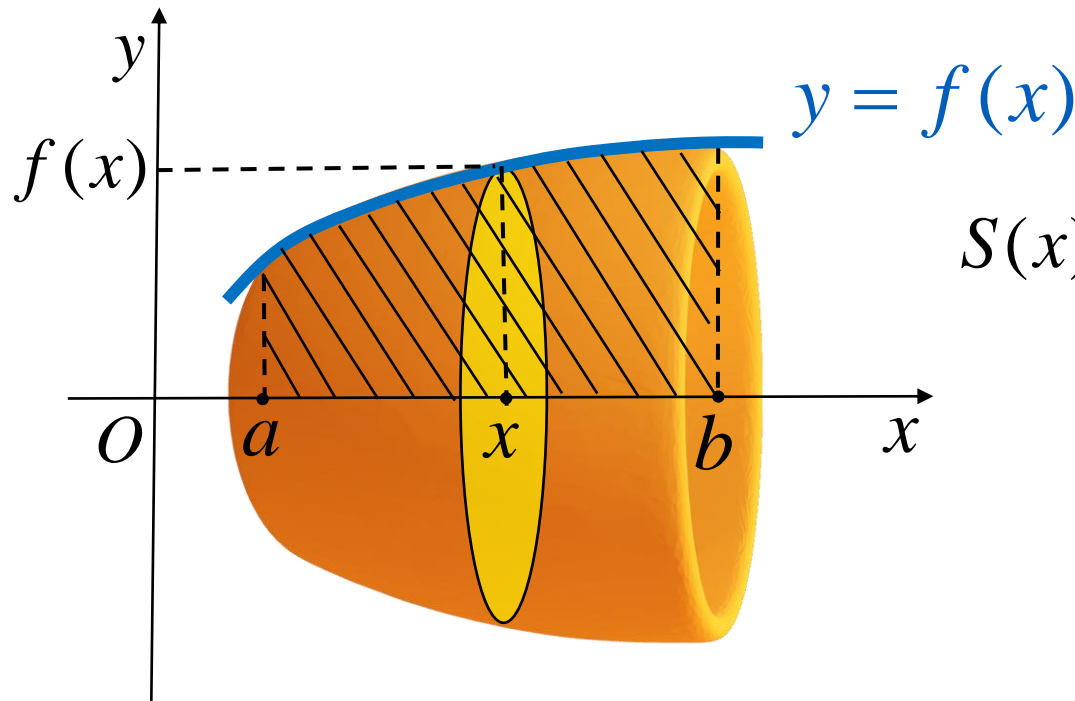
$$V = \lim_{d \rightarrow 0} \sum_k S(c_k) \cdot \Delta x_k \Rightarrow V = \int_a^b S(x) dx \quad \blacksquare$$

# Вычисление объема тела вращения вокруг оси $Ox$

Пусть тело образовано вращением вокруг оси  $Ox$  криволинейной трапецией под графиком функции  $y = y(x) = f(x)$  на отрезке  $[a, b]$ . Тогда его объем равен

$$V_x = \pi \int_a^b y^2(x) dx = \pi \int_a^b [f(x)]^2 dx$$

# Вычисление объема тела вращения вокруг оси $Ox$



$$S(x) = \pi R^2 = \pi [f(x)]^2$$

$\Downarrow$

$$V = \int_a^b S(x) dx =$$
$$= \int_a^b \pi y^2(x) dx \blacksquare$$

# Вычисление объема тела вращения вокруг оси $Ox$ . Пример 7

Пример 7. Найти объем шара.

Решение. Шар получается при вращении половины круга вокруг оси  $Ox$ . Поэтому

Уравнение верхней границы:

$$y = \sqrt{R^2 - x^2}, \quad -R \leq x \leq R$$

$$V_{\text{шара}} = V_x = \pi \int_{-R}^R y^2(x) dx = \pi \int_{-R}^R \left( \sqrt{R^2 - x^2} \right)^2 dx =$$

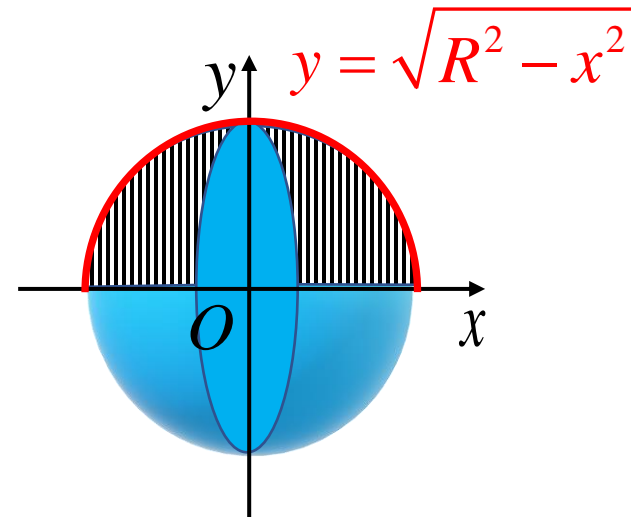
# Вычисление объема тела вращения вокруг оси $Ox$ . Пример 7

$$= \pi \int_{-R}^R (R^2 - x^2) dx =$$

$$= \pi \left( \int_{-R}^R R^2 dx - \int_{-R}^R x^2 dx \right) =$$

$$= \pi \left( R^2 x - \frac{x^3}{3} \right) \Big|_{-R}^R = \pi \left( \left( R^3 - \frac{R^3}{3} \right) - \left( (-R)^3 - \frac{(-R)^3}{3} \right) \right)$$

$$= \pi \left( \frac{2}{3} R^3 - \frac{2}{3} (-R)^3 \right) = \frac{4}{3} \pi R^3$$



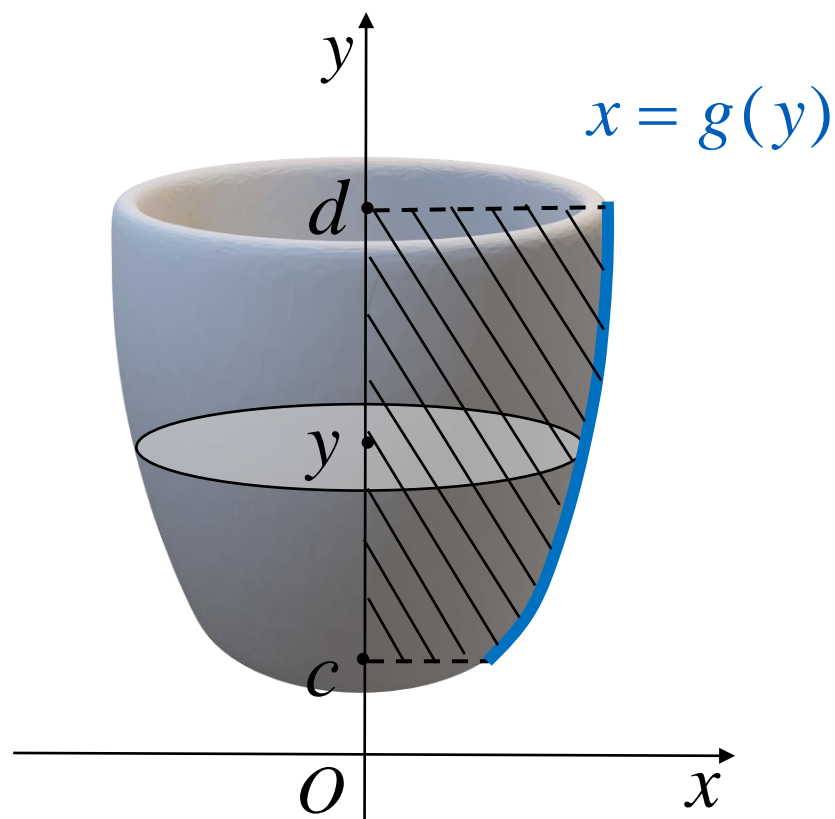


# Вычисление объема тела вращения вокруг оси $Oy$

Пусть тело образовано вращением вокруг оси  $Oy$  криволинейной трапецией под графиком функции  $x = x(y) = g(y)$  на отрезке  $[c, d]$ . Тогда его объем равен

$$V_y = \pi \int_c^d x^2(y) dy = \pi \int_c^d [g(y)]^2 dy$$

# Вычисление объема тела вращения вокруг оси $Oy$



Доказательство  
аналогично (упр.)

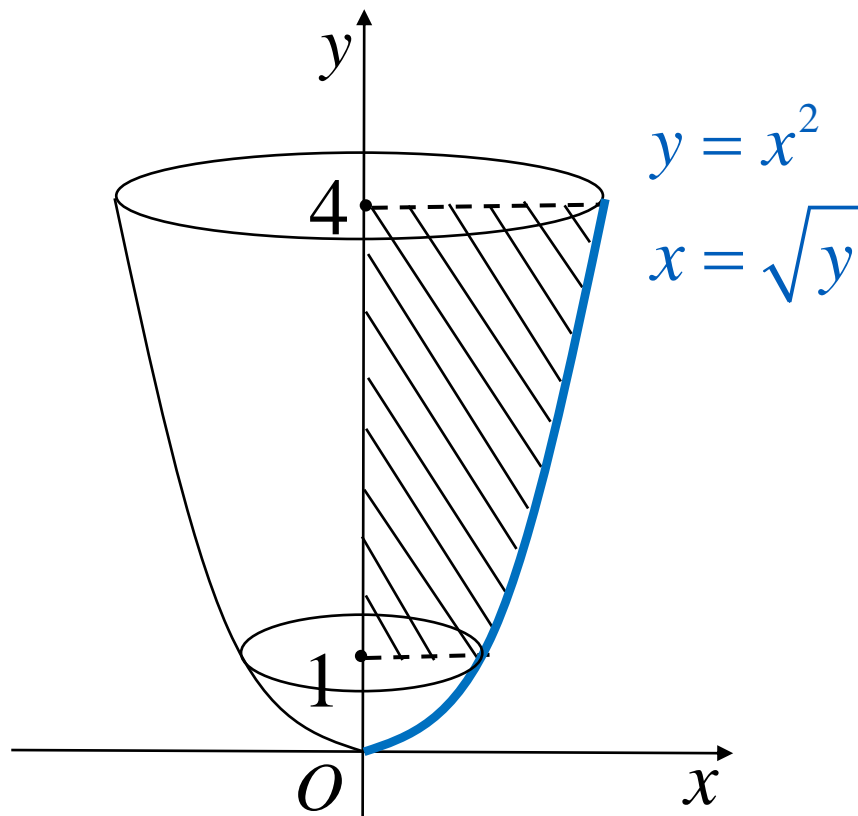
## Задача о вычислении объема тела вращения. Пример 8

Пример 8. Найти объем тела вращения фигуры вокруг оси  $Oy$ , ограниченной, линиями  $y = x^2$ ,  $y = 1$ ,  $y = 4$ .

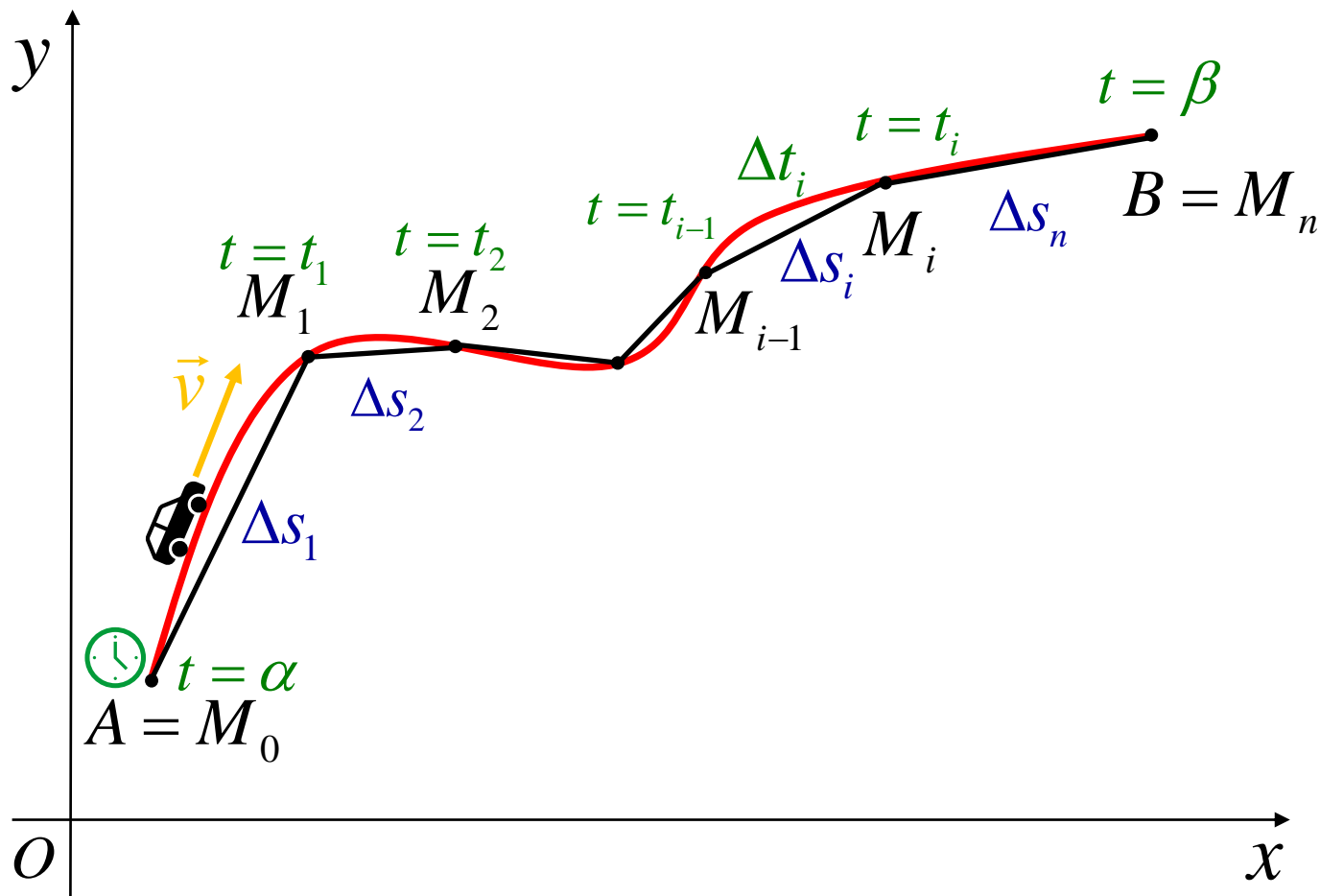
Решение.  $y = x^2 \Rightarrow x = \sqrt{y} \Rightarrow$

$$\begin{aligned} V_y &= \pi \int_1^4 x^2(y) dy = \pi \int_1^4 [\sqrt{y}]^2 dy = \\ &= \pi \int_1^4 y dy = \pi \frac{y^2}{2} \Big|_1^4 = \pi \left( \frac{16}{2} - \frac{1}{2} \right) = \frac{15\pi}{2} \end{aligned}$$

# Задача о вычислении объема тела вращения. Пример 8



# Приложение в механике. Задача о вычислении пройденного пути



# Приложение в механике. Задача о вычислении пройденного пути

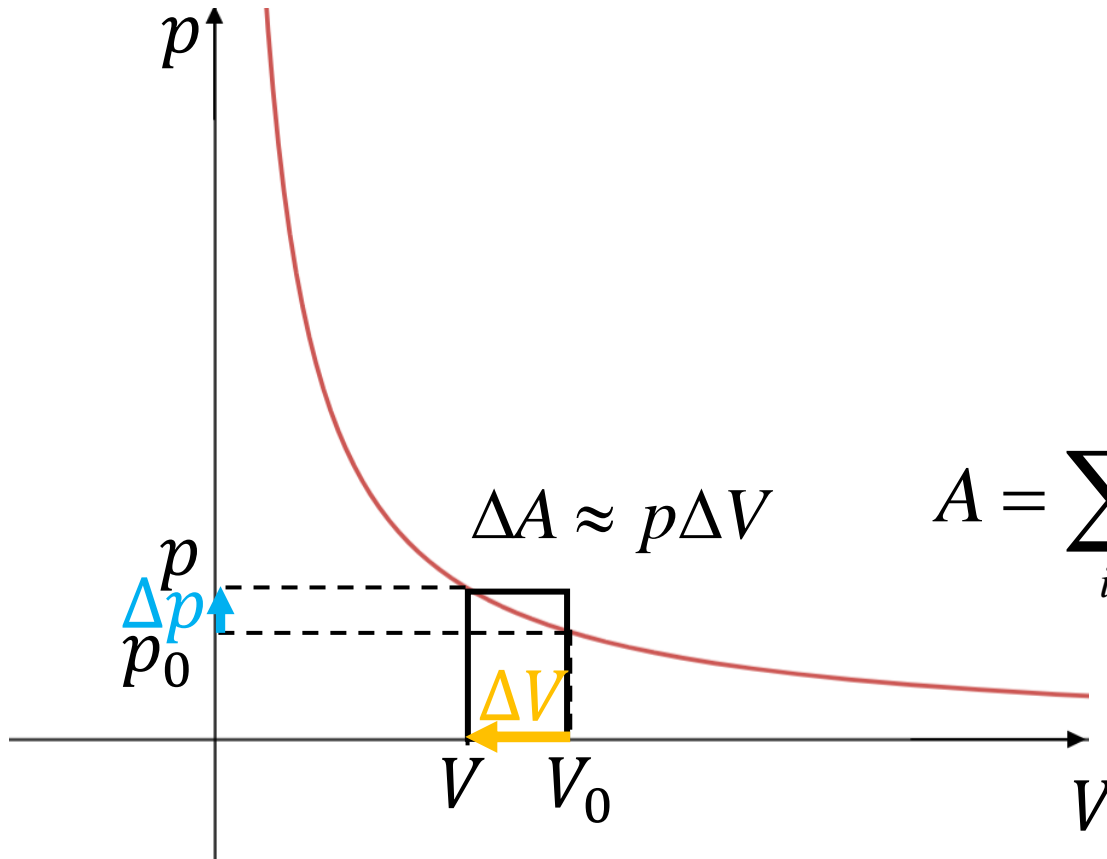
$$\Delta s_i \approx v_i \Delta t_i$$

$$s = \Delta s_1 + \Delta s_2 + \dots + \Delta s_n \quad s \approx \sum_{i=1}^n \Delta s_i \Rightarrow$$

$$\Rightarrow s = \lim_{d \rightarrow 0} \sum_{i=1}^n v_i \Delta t_i, \text{ где } d = \max_i \Delta t_i \Rightarrow$$

$$s = \int_{\alpha}^{\beta} v(t) dt$$

# Приложение в термодинамике. Работа идеального газа

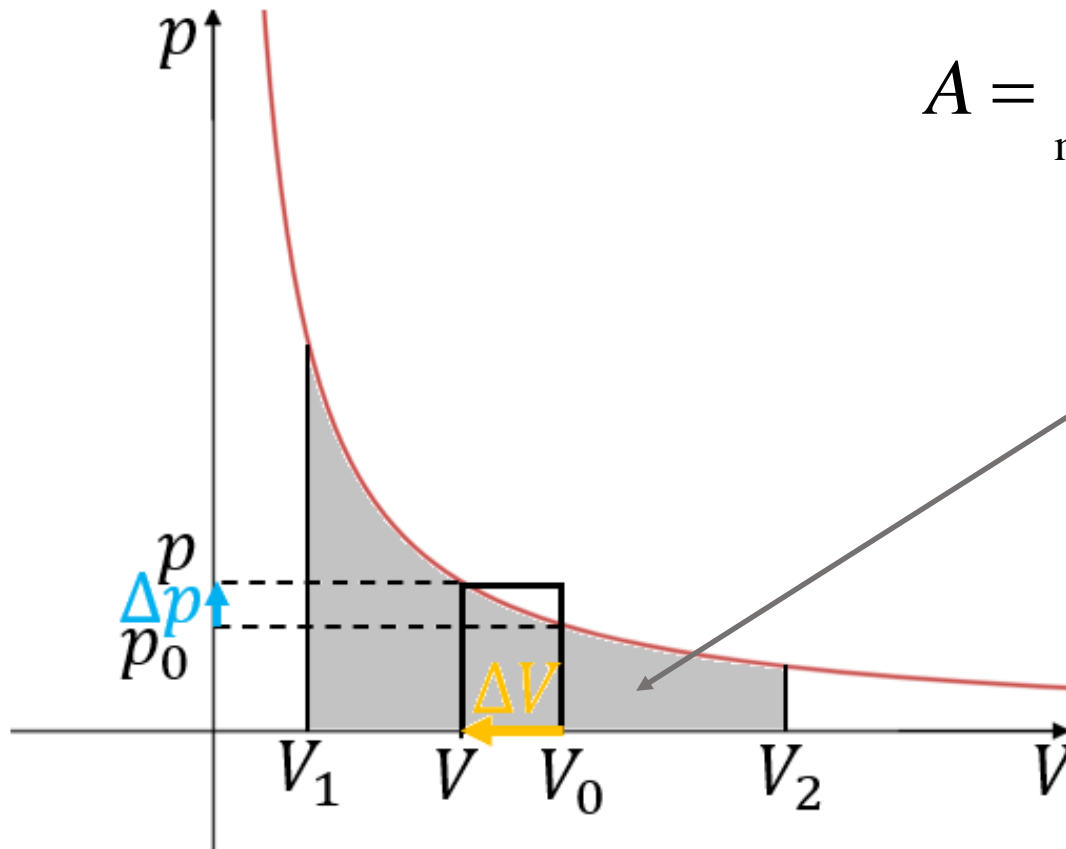


$$\Delta A_i \approx p_i \Delta V_i$$

$$dA = p dV$$

$$A = \sum_i \Delta A_i \approx \sum_i p_i \Delta V_i$$

# Приложение в термодинамике. Работа идеального газа



$$A = \lim_{\max \Delta V_i \rightarrow 0} \sum_i p_i \Delta V_i$$

$$A = \int_{V_1}^{V_2} p(V) dV$$



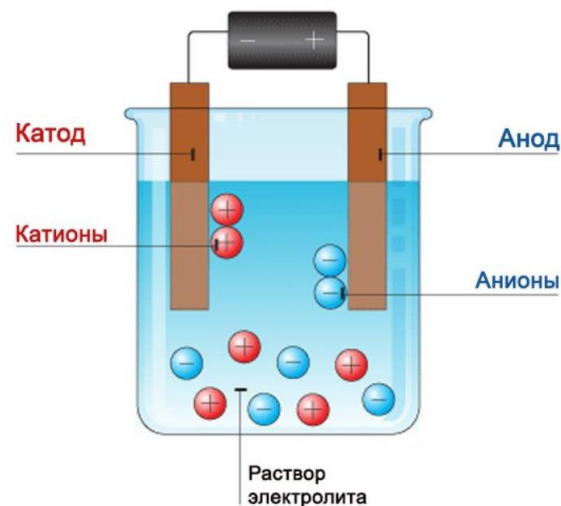
# Приложение в химии. Электролиз

$q = \int_{t_1}^{t_2} I(t) dt$  – количество заряда,  
протекшего через электролизер

$$\Delta q_j \approx I_j \Delta t_j \quad dq = Idt$$

$$q = \sum_j \Delta q_j \approx \sum_j I_j \Delta t_j$$

$$q = \lim_{\max \Delta t_j \rightarrow 0} \sum_j I_j \Delta t_j = \int_{t_1}^{t_2} I(t) dt$$

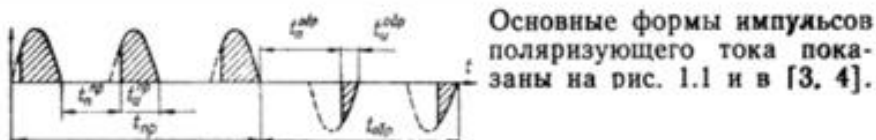


Изображение  
взято с [сайта](#)

# Приложение в химии. Импульсный электролиз

Импульсный электролиз / Костин Н. А., Кублановский В. С., Заблудовский А. В.; Отв. ред. А. В. Городыский; АН УССР. Ин-т общ. и неорган. химии.— Киев : Наук. думка, 1989.—168 с.— ISBN 5-12-000754-6.

Микрофотографии рельефа поверхности осадков никеля, полученных при электролизе током



Среднее значение поляризующего тока

$$J_{\text{ср}} = \frac{1}{T} \int_0^T j(t) dt,$$

Этот слайд можно не конспектировать

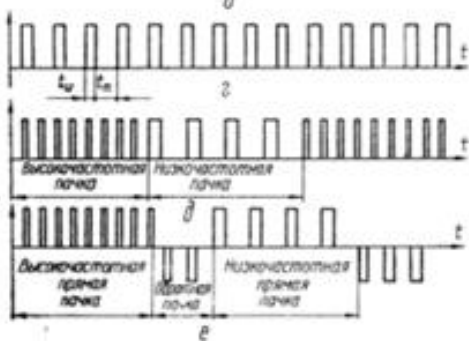




Рис. 1.1. Некоторые формы импульсного поляризующего тока:



ПОСТОЯННЫМ



ИМПУЛЬСНЫМ

Задача (упр., 2б.) Найти среднее значение поляризующего тока, если сам ток равен

$$I(t) = \begin{cases} a \sin\left(\frac{2\pi}{T}t\right), & t \in \left[0; \frac{T}{2}\right], \\ 0, & t \in \left[\frac{T}{2}; T\right] \end{cases}$$